

8. SINIF


LİSELERE GEÇİŞ SİSTEMİ

LGS

BAŞARI İZLEME SINAVI

SÖZEL BÖLÜM

ÖRNEK SORULAR



TestMarketi

*Tüm hakları Test Marketi'ne aittir.

TÜRKÇE TESTİ

1. Bu testte 10 soru vardır.
2. Cevaplarınızı, cevap kâğıdına işaretleyiniz.

1. 1. metin

Bilgiye ulaşmak okumayla sağlanır. Okuma alışkanlığı ve sevgisi olan insan; kendisine ve herkese, her şeye karşı meraklıdır, içindeki yeteneği çıkarmayı bilir, düşünce gücü geliştirir, bilgileri süzgeçten geçirerek kendisi için yararlı hale getirir, eyleme geçer mutlu olur. Okuma eyleminde 'göz' metin üzerinde kayarken bir fotoğraf makinesi gibi gördüğü kısmın resmini çeker beyne gönderir. Beyin de daha önce öğrendiği bu sembolleri tanımlayıp bir araya getirerek bir fikre ulaşır. Okuyarak elde ettiğimiz bilgiler sayesinde beynimizdeki nöronlar arasında ilişki artar. Kısaca okuma eylemiyle beynimizin kapasitesini artırır, zekâmızı geliştirir.

2. metin

Toplumumuzda kitap okuyan insanlar çoğaldıkça, kültürel gelişme gerçekleşir, eğitim seviyesi yükselir. Eğitim seviyesi yükseldikçe bilinçli, doyumlu, mutlu yaşayan insanların sayısı artar. Bu öyle bir süreçtir ki, eğitim insanı geliştirirken insan da eğitimi geliştirir. Eğitimin temel aracı ise kitaptır. Kitap okumayı sevmek, okuma alışkanlığı kazanmak bu anlamda toplumun geleceği için çok önemlidir. Bilgi çağında yani bilgiye ulaşabilmenin çok kolay olduğu bu dönemde, bilgiye kitap yoluyla da olsa, internet yoluyla da olsa okuyarak ulaşırız. Bu nedenle okuma alışkanlığımız ne kadar gelişmişse o kadar çok bilgiye ulaşabiliriz.

Verilen metinlerle ilgili aşağıdakilerden hangisi söylenemez?

- A) Benzer konular işlenmiştir.
- B) Anlatım biçimleri farklıdır.
- C) Metin türleri aynıdır.
- D) Dil sade, anlatımı açıktır.

2. Eylemin hangi amaca bağlı olarak gerçekleştiğinin belirtildiği cümlelere amaç-sonuç cümleleri denir.

Aşağıdaki şiirlerin hangisinde amaç-sonuç ilişkisi vardır?

- A) Çıkamaz çocukluğundan dışarı
Kimse.
Kardeşliğimiz bundandır
Mavi sularla binlerce yıl.
- B) Yoksul bir çocuk görsem
yağmur altında üşüyen
köprü olmak geçer
hiç değilse
içimden
- C) Boynuna o yeşil fuları sarma çocuk
Gece trenlerine binme kaybolursun
- D) Canım yansın diye
İşimden atarlar sık sık,
Acısını hep çocuklar çeker...
Kendi öz çocuklarım,
Benden önce

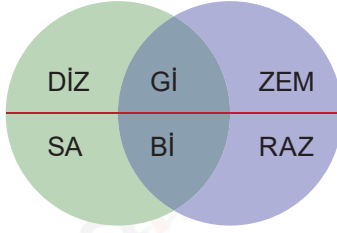
3. Stanford Tıp Fakültesinde çalışan bir grup araştırmacı kök hücre üretmek için kullanılan bir yöntemle insan hücrelerini gençleştirmeyi başardı. Dr. Tapash Jay Sarkar ve arkadaşları tarafından yapılan araştırmanın sonuçları Nature Communications'ta yayımlandı. İndüklenmiş plüripotent kök hücreler (iPS) olarak adlandırılan, laboratuvar ortamında sıradan hücrelerden üretilen kök hücreler, vücuttaki herhangi bir hücre türüne dönüşebilir. Bu hücreleri üretmek için kullanılan standart yöntemde "Yamanaka etkenleri" olarak adlandırılan proteinlerden yararlanılır. İnsanların vücutlarından alınan sıradan hücrelere -örneğin deri hücrelerine- birkaç hafta boyunca Yamanaka etkenlerinin sentezlenmesini sağlayan RNA parçaları verilir. Üretilen proteinler hücrelerin yavaş yavaş embriyonik kök hücrelere dönüşmesini sağlar. Bu süreç sadece çeşitli türdeki hücreleri birbirinden farklı yapan etkenleri yok etmekle kalmaz, aynı zamanda hücrelerden yaşlanmanın tüm izlerini de siler. Elde edilen kök hücreler gençlik doludur.

Yukarıdaki metinde kullanılan düşünceyi geliştirme yolu aşağıdakilerden hangisidir?

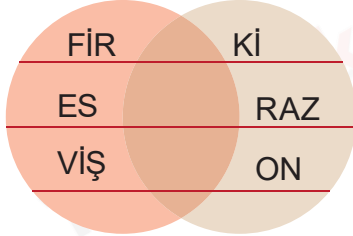
- A) Açıklayıcı
- B) Betimleyici
- C) Tartışmacı
- D) Öyküleyici

Türkçe Testi

4. Kesişen kelimeler oyunu, verilen iki kümede kesişim kümesini oluşturan sözcük öbeğinin bulunmasına dayanıyor. Oyunda her satırda anlamlı kelimeler oluşturulmalı, aynı zamanda kesişim kümesinde her bir bölmeye yazılan heceler yukarıdan aşağıya okunduğunda anlamlı bir sözcük ortaya çıkmalıdır. Örneğin;



Birinci kümedeki DİZ ve ikinci kümedeki ZEM hecelerinin kesişim kümesine Gİ hecesi yazıldığında DİZGİ ve GİZEM şeklinde iki anlamlı kelime; aynı şekilde birinci kümedeki SA ve ikinci kümedeki RAZ hecelerini kesişim kümesine Bİ hecesi yazıldığında SABİ ve BİRAZ şeklinde iki anlamlı kelime; kesişim kümesi yukarıdan aşağıya okunduğunda GİBİ kelimesi elde edilir.



Bu bilgiye göre, yukarıda verilen kümelerin kesişim kümesine hangi kelime yazılabilir?

- A) KİRACI B) ZAMANE
C) MAKİNE D) ETKİLİ
5. (I) Adını Farsçadan alan lale Türk kültürünün en önemli simgelerinden biridir. (II) Farsçada "kırmızı" anlamına gelen lal kelimesinden türetilen lale, başlangıçta gelincikleri ve diğer kırmızı çiçekleri nitelemek için kullanıldıysa da sonradan bildiğimiz soğanlı bitkinin adı oldu. (III) Gerçek vatanının Orta Asya olduğu düşünülen lale, Türklerden önce, Roma ve Bizans dönemlerinde Anadolu'da tanınmıyordu. (IV) Kanuni Sultan Süleyman döneminde Avusturya-Macaristan imparatorunun İstanbul'da görevli elçisi Ootgeer Giseliğin van Busbeke'nin Avrupa'ya giderken yanında lale soğanları götürmesiyle lalenin Avrupa'da tanındığı düşünülüyor.

Yukarıda numaralandırılmış cümlelerden hangisi kanıtlanabilirlik açısından diğerlerinden farklıdır?

- A) I B) II C) III D) IV

6.



Yukarıdaki görselden hareketle virüs ile ilgili aşağıdakilerden hangisi çıkarılamaz?

- A) Hangi yolla bulaştığı
B) İnsan ilişkilerine etkisi
C) Yayılmasının azaltılması
D) İnsan sağlığına etkisi
7. Bazı bakteriler ve virüsler sağlıklı hücrelerimizi kullanarak çoğalır. Vücudumuzdaki bakteri ve virüsler belirli bir sayıya ulaştığında ise hasta oluruz. Aşı, hastalık yapıcı bakteri ve virüslere karşı vücudumuzu koruyan bir tedavi yöntemidir. Bütün hastalıkların bir aşısı olmasa da bugüne kadar pek çok hastalığa karşı aşı geliştirilmiştir. Peki, aşı vücudumuzu hastalıklardan nasıl korur? Vücudumuzda hastalık yapıcı bakterilere ya da virüslere karşı savaşan ve onları yok eden bağışıklık sistemi hücreleri vardır. Antikor da bağışıklık sistemi hücrelerinden biridir. Vücudumuza bakteri ve virüs gibi yabancı maddeler yani antijenler girdiğinde bağışıklık sistemi antikor üreterek bu antijenleri yok eder. Aşı, hastalık yapıcı bakteri ve virüsler kullanılarak üretilir. Aşı olduğumuzda bağışıklık sistemimiz uyarılır ve vücudumuzdaki antikorların antijeni tanıması sağlanır. Aşının içindeki antijen hastalık yapacak kadar güçlü olmasa da bağışıklık sistemi bu antijeni artık tanıdığı için bir dahaki karşılaşmada antikorların daha hızlı üretilmesini sağlar. Bu şekilde vücudumuz hastalığa karşı bağışıklık oluşturur.

Yukarıdaki metinden aşağıdakilerden hangisine ulaşılamaz?

- A) İnsanların hasta olma nedeni
B) Aşının yaşamımızdaki önemi
C) Bağışıklık sisteminin görevi
D) Aşının nasıl üretildiği

8.

Braille Alfabeti

a	b	c	ç	d	e	f	g	ğ	h	ı	i	j
k	l	m	n	o	ö	p	r	s	ş	t	u	ü
v	y	z	x	q	w							
0	1	2	3	4	5	6	7	8	9			

Bugün görme engellilerin hayatını kolaylaştıran Braille alfabeti; iki kolon taşıyan dikdörtgen düzen üzerine dizilmiş kabartılmış altı noktadan oluşur. Noktalardan her biri altmış dört farklı kombinasyondan birini oluşturması için farklı şekillerde dizilir.

Yukarıdaki sembollerden yola çıkarak “bilim” kelimesinin doğru yazılışı aşağıdakilerden hangisidir?

- A)
- B)
- C)
- D)

9.

Albrecht Dürer



1471-1528 yılları arasında yaşamış olan Alman ressam Albrecht Dürer, aynı zamanda bir matematikçiydi. Dürer, oran-orantı, perspektif, ışık ve gölge kurallarına uygun resimler yaparak klasikçilik adı verilen sanat akımının öncülerinden olmuştur. Sanatçı, resimlerdeki figürlerinde anatomik ayrıntılara da önem vermiştir.

Giuseppe Arcimboldo



1527-1593 yılları arasında yaşamış olan İtalyan ressam Giuseppe Arcimboldo aynı zamanda mimar ve mühendis olarak da çalışmıştır. Meyve, sebze, kitap ve çeşitli hayvan figürleri kullanarak oluşturduğu portreleriyle tanınmış olan ressam, üslupçuluk adı verilen sanat akımının öncülerinden biri. Simetri ve oranın önemsiz olduğu bu akımda resimler genellikle iki boyutlu yapılmıştır.

Wassily Kandinsky



Hukuk ve ekonomi eğitimi alan Rus ressam Wassily Kandinsky, 1866-1944 yılları arasında yaşamıştır. İzlenimcilik akımından etkilenen Kandinsky, başlarda canlı renkleri kullanmayı tercih etmiştir. Daha sonra resimlerinde geometrik biçimler kullanarak yeni bir akımın öncüsü olmuştur: Soyut akım. Bu akımda gerçek nesnelere değil, çeşitli geometrik biçimler ve renklerle serbestçe çalışılır.

Yukarıda üç ressama ait bilgiler verilmiştir. Bu bilgilere göre aşağıdakilerden hangisi kesinlikle çıkarılabilir?

- A) Üç ressam aynı dönemde yaşamıştır.
- B) Resim dışında farklı alanlarda da çalışmaları vardır.
- C) Farklı akımlardan etkilenmişlerdir.
- D) Yaptıkları çalışmalarda geometrik nesnelere ön plandadır.

10. Bir kişinin tanık oldukları bazı olayları ve durumları daha sonra izlenimlere dayanarak anlattıkları yazı türüne anı denir.

Aşağıdaki metinlerden hangisi yukarıda açıklaması verilen türe ait bir örnektir?

- A) Aşıdan çok korkardım, çok sakardım. Okulda sürekli yere düşerdim. Bir gün zil çaldı, sınıfa çok hızlı koşarken bir arkadaşım beni itti. Ben demir parmaklıkların üzerine düşmüştüm. Her tarafım kan içinde kalmıştı. O günü hiç unutamam ve çok canım acımişti. Bu arada bir de aşıdan çok korkardım ve sürekli okuldan kaçardım. Öğretmenlerimden bu sebepten ötürü çok azar işittim.
- B) Tilkinin iyiliği tutmuş bir gün! Leyleği yemeğe buyur etmiş - Ama demiş tilki, bizde misafir umduğunu değil bulduğunu yer. Meğer tilkinin cimrisi hepsinden betermiş. Bir çorba çıkarmış topu topu. O da sulu mu sulu. Hem nerde getirirse beğenirsiniz? Tabakta. Leylek, gagasıyla uğraşadursun tilki bitirmiş hepsini bir solukta. Leylek kızmış, ama çekmiş sineye.
- C) Bu, Roma'ya üçüncü gelişimdir. Ama Roma, orada doğup orada büyüyenler için bile bitmez. Bütün heykel, tablo ve anıtlar size her görüldüğünde güzelliğin yeni bir sırrını açacaktır. Roma'da heykel vatandaş olmuştur. O, müzede değil, bizim gibi sokaklarda dolaşüyor, meydanlarda geziniyor, parklarda dinleniyor!
- D) Bir varmış, bir yokmuş. Evvel zaman içinde, kalbur saman içinde... Pire berber iken, deve tellal iken, ben anamın beşiğini tıngır mıngır sallarken. Tıngır elek, tıngır felek demişler, bu masalı şöyle anlatmışlar. Bir padişahın üç kızı varmış. Bir gün bu padişah kızlarını başına toplamış, beni ne kadar seversiniz? demiş. En büyük kız "Dünyalar kadar...", ortanca kız "Kucak kadar...", küçük kız da "Tuz kadar..." severim demiş.

T.C. İNKILAP TARİHİ VE ATATÜRKÇÜLÜK TESTİ

1. Bu testte 5 soru vardır.
2. Cevaplarınızı, cevap kâğıdına işaretleyiniz.

1. • Yurt toprağı! Sana her şey feda olsun. Kutlu olan sensin.
• Bağımsızlık benim karakterimdir.
• Ben düşündüklerimi sevdiğime olduğu gibi söylerim.
• Bizim akıl, mantık ve zekâ ile hareket etmemiz en belirgin özelliğimizdir.

Yukarıda verilen sözlerde Mustafa Kemal'in hangi kişilik özelliği vurgulanmamıştır?

- A) Vatan sevgisi B) Açık sözlülük
C) İleri görüşlülüğü D) Mantıklı oluşu

2. İtilaf Devletleri savaş sonunda ortaya çıkan yeni durumu görüşmek için Londra Konferansı'nı düzenledi.
 - Afganistan'la bir dostluk antlaşması imzalandı.
 - Sovyetler Birliği ile Moskova Antlaşması imzalandı.
 - Askere alma işleri kolaylaştı ve hızlandı.

Birinci İnönü Zaferi'nin verilen sonuçlarından hareketle,

- I. Uluslararası sonuçları beraberinde getirmiştir.
- II. Millî Mücadele'ye diplomatik destek sağlanmıştır.
- III. TBMM'ye ve Millî Mücadele'ye olan güven artmıştır.

Yorumlarından hangileri yapılabilir?

- A) Yalnız II. B) I ve II.
C) I ve III. D) I, II ve III.

3. Osmanlı yöneticileri, ilk ittifak teklifini İngilizlere yani İtilaf Devletlerine yaptılar. İngiltere ile müttefik olunması hâlinde ise, Osmanlı Devleti üzerindeki Rus baskısının İngilizler tarafından önleneyeğini düşünüyorlardı. Ekonomik ve askerî gücü iyice zayıflamış olan Osmanlı Devleti'nin bu ittifak teklifi, Rusların da baskısıyla, İngilizler tarafından reddedildi. Ancak Osmanlı Devleti'nin coğrafi konumundan dolayı karşı bloka kaymasını istemeyen İngilizler, onu savaşın sonuna kadar tarafsız tutma gayreti içine girdiler. Osmanlı Devleti'nin tarafsız kalması hâlinde, savaşın sonunda kapitülasyonları gözden geçirebileceklerini vadettiler.

İngilizlerin, Osmanlı Devletinin tarafsız kalmasını bu kadar önemsemelerinin nedeni aşağıdakilerden hangisidir?

- A) Rusya'nın dostluğuna önem verip Panslavizm politikasını desteklemektedirler.
B) Sömürgeleriyle aralarındaki yolun güvenliğini sağlamayı amaçlamaktadırlar.
C) İstanbul ve Çanakkale boğazlarının savaş alanı olmasını istememektedirler.
D) Osmanlı Devletinin elinde olan Halifeliğin gücünü kullanmak istemektedirler.

4. Kanal Cephesi, Süveyş Kanalı'nı alıp İngiltere'nin sömürgeleriyle olan bağlantısını kesmeyi ve Mısır'ı geri almayı amaçlayan Türk kuvvetlerinin taarruzuyla açıldı. Almanların da desteğiyle hareket eden Bahriye Nazırı Cemal Paşa komutasındaki Osmanlı askerleri, Şubat 1915'te Kanal'a ulaşmak için harekete geçtiler. Ancak ikmal hatları yeterli olmadığı için askerlerimiz tüm erzağını yanlarında taşıyordu. Bu durum çölün zor şartlarında askerlerimizin yorgun düşmesine neden oldu. Yaşanan açlık ve susuzluk, durumu daha da ağırlaştırdı. Buna rağmen askerlerimiz, Kanal'ı ele geçirmek için birkaç kez girişimde bulduysa da büyük kayıplar vererek geri çekilmek zorunda kaldılar.

Kanal cephesiyle ilgili verilen parçada aşağıda verilen sorulardan hangisinin cevabı yoktur?

- A) Açılmasının amacı nedir?
B) Hedef nereye ele geçirmektir?
C) Neden başarısızlıkla sonuçlanmıştır?
D) Arap kabileleri hangi tarafa destek vermiştir?

T.C. İnkılap Tarihi ve Atatürkçülük Testi

5. Kütahya-Eskişehir Muharebelerinden sonra Başkomutanlığa getirilen Mustafa Kemal Paşa ordunun ihtiyaçlarını halktan karşılamak için Tekâlif-i Milliye Emirleri'ni yayımlamıştır. Bu genelge ile Türk milletinin ordusuna sahip çıkması istenilmiştir. Her ailenin bir asker giydirmesi, halkın elinde bulunan silah ve cephaneyi orduya teslim etmesi; yaylı araba ve kağnı arabaları ile deve ve merkeplerin %20'sini, tüccarların stoklarındaki malzemenin %40'ını orduya vermesi istenmiştir. Buna karşılık halk istenilenden daha fazlasını vermeye gayret etmiştir. Herkes elinden geldiğince ordu için hizmet etmeye koşmuştur. Demirci, marangoz, tesviyeci, saraç ve arabacı esnafları ile kılıç, mızrak yapabilecek sanatkârlar emekleriyle orduya destek olmuştur. Bedeli sonradan ödenmek üzere alınan malzemelerin ücretini devlet ödemek istediğinde, halkın çoğu bunu kabul etmemiştir. Kurtuluş Savaşı'nın kazanılmasındaki en önemli ruh, Türk Milletinin bu tutumu olmuştur.

Metinde verilen açıklamalara bakılarak;

- I. Bu çağrıya uymayıp karşı çıkanlar cezalandırılmıştır.
- II. Türk milleti birlik ve beraberlik içinde hareket etmiştir.
- III. Halk sahip olduğu mal ve imkanları bu yolda seferber etmiştir.

çıkarımlarından hangileri yapılamaz?

- A) Yalnız I. B) I ve II.
C) II ve III. D) I, II ve III.

DİN KÜLTÜRÜ VE AHLAK BİLGİSİ TESTİ

1. Bu testte 5 soru vardır.
2. Cevaplarınızı, cevap kâğıdına işaretleyiniz.

1. Vücudumuzdaki bütün organlar simetrik olarak yaratılmıştır. Bir vücudun ortasından geçecek şekilde dikey bir çizgi çizildiğinde vücudun sol ve sağ tarafı neredeyse birbirinin ayna görüntüleridir. Bir insanın kol açıklığı mesafesi sol orta parmağımızdan sağ orta parmağımıza kadar olan uzaklık mesafesi aynıdır. Yine bir insanın el bileğinden dirseğine kadar olan mesafe, o kişinin ayak boyuna eşittir. Dişlerimizin dizilişinde, beyin yarım küremizde, böbrek ve akciğerlerimizde de bu simetri vardır. Örneğin bir insanın ince bağırsağı, boyunun dört katı kadardır. Kalbe yer açmak amacıyla sol akciğer, sağ akciğerden daha küçüktür.

Aşağıdaki ayetlerden hangisi bu metinle doğrudan alakalıdır?

- A) "Yaratan Rabbinin adıyla oku! O, insanı, "alak"tan (embriyodan) yarattı." (Alak suresi, 1-2.ayetler)
- B) "Seni yaratan, şekillendirip ölçülü yapan, dilediği bir biçimde seni oluşturan Allah'tır." (İnfitar suresi, 7-8. ayetler.)
- C) "Göğü yükseltti ve ölçüyü koydu. Ölçüde haddi aşmayın." (Rahman suresi, 7-8.ayetler.)
- D) "Biz gökten belli bir ölçüde su indirdik de (faydalanmanız için) onu yeryüzünde tuttuk." (Mü'minun suresi, 18.ayet.)

2. - "Ancak azamet ve ikram sahibi Rabb'inin zatı baki kalacaktır." (Rahman suresi, 27.ayet.)
 - "Ey iman edenler! Tedbirinizi alın..." (Nisa suresi, 71.ayet.)
 - "Ey insanlar! Yeryüzündeki şeylerin helal ve temiz olanlarından yiyin!" (Bakar suresi, 168.ayet)
 - "Ölümsüz ve daima diri olan Allah'a güvenip dayan, O'nu hamd ile tesbih et..." (Furkan suresi, 58.ayet.)

Yukarıdaki ayetlerde kaderle ilgili kavramlardan hangisine değinilmemiştir?

- A) Başarı ve başarısızlık
- B) Tevvekkül
- C) Sağlık
- D) Ömür ve ecel

3. "Sizden birinizin organı alıp (dağa giderek) bir bağ odun getirip satması... bir şey verip vermeyecekleri belli olmayan kimselerden dilenmesinden daha hayırlıdır." (Buhari, Müsakat,13)
 "Kesinlikle hiç kimse kendi el emeğinden daha hayırlı bir yemek yememiştir..." (Buhari, Büyü',15.)

Aşağıdakilerden hangisi bu hadislerle doğrudan ilişkilidir?

- A) "Yeryüzünde hiçbir canlı yoktur ki rızıkı Allah'a ait olmasın..." (Hud suresi, 6.ayet.)
- B) "Vermeyince Mabut, neylesin Sultan Mahmut." (Atasözü)
- C) "Ağılda oğlak doğunca derede otu biter." (Atasözü)
- D) "Kim kazanmazsa bu dünyada bir ekmek parası, dostunun yüz karası, düşmanının maskarası." (Mehmet Akif Ersoy)

4. Kur'an-ı Kerim'de "Onların mallarından, onları kendisiyle arındıracağın ve temizleyeceğin bir sadaka (zekat) al..." (Tevbe suresi, 103.ayet.) ayetinde ifade edilen zekat ve sadaka, inananları hem bireysel hem de toplumsal açıdan arındırıp temizlemelidir.

Buna göre aşağıdakilerden hangisi zekat ve sadaka ibadetinin bireysel faydalarından biri değildir?

- A) İnsanın yaratılışındaki yardımlaşma duygusu ortaya çıkar.
- B) Kişi bu ibadetleri yaparak malının bereketlenmesini sağlar.
- C) Cimrilik, bencillik gibi kötü duygulardan arındırır.
- D) Kişinin kendisinin alma ve kazanma dürtüsü pekişir.

5. - Hayvanların susuzluklarını gidermek için mezar taşlarının bir parçası olarak yapılan suluklar
 - Camii avlusuna şadırvan yaptırması
 - İki köyün ulaşımını kolaylaştırmak adına köylülerin köprü yaptırması

Bu davranışlar aşağıdaki ibadetlerden hangisinin kapsamındadır?

- A) Sadaka
- B) Zekât
- C) Sadaka-i cariye
- D) Fıtır sadakası

İNGİLİZCE TESTİ

1. Bu testte 5 soru vardır.
2. Cevaplarınızı, cevap kâğıdına işaretleyiniz.


1.

PERSONAL TRAITS	ARZU	MELİSA
Only thinks about herself	✗	✓
Always tells the truth	✓	✗
Never keeps secret	✓	✗
Gets on well with her friends	✓	✗

Which statement is **WRONG** according to the table?

- A) Melisa is selfish. B) Arzu is honest.
C) Melisa isn't easygoing. D) Arzu is reliable.

2.



FLUFFY MUFFINS

Ingredients:	Process
<ul style="list-style-type: none"> - 2 large eggs - 1 cup of sugar - ½ cup of oil - 1 cup of milk - 3 cups of flour - 3 tsp of cacao. - 2 tsp of vanilla - 2 tsp of baking powder 	<p>First heat the oven. Beat the eggs and sugar in a large bowl with a mixer. Then slowly pour oil and milk. Stir them gently. Next mix flour, cacao, vanilla and baking powder in another bowl. Add the dry ingredients to the wet mixture. Slowly stir them with a spoon. Pour the mixture to the baking tray and bake it in 180 degrees for 40 minutes.</p>

What is the next step after mixing dry ingredients?

- A) Mixing flour, cacao, vanilla and baking powder.
B) Adding them to the egg, sugar, oil, milk mixture.
C) Beating the eggs with sugar.
D) Preparing the baking tray.

3.

**OXFORD SECONDARY SCHOOL
CLASS OF 2009**

JOIN US AFTER TEN YEARS
COME AND HAVE FUN WITH OLD
FRIENDS
WE HOPE TO SEE YOU ALL

Saturday, May 20
5 p.m to 9 p.m.
Rose Cafe.
7590 street, Nr.21
London

PS. Please inform Kevin Smith in advance if you can attend the event until May 12. You can call him at 40279134 for more information.

According to the invitation, which question **CAN NOT** be answered?

- A) How much does one person cost?
B) What type of event is this?
C) What is the deadline for joining the event?
D) How can you get more information?

4.

I prefer reading novels. I am at the reading club of our school. I want to be a great author one day.



Berna

I like going out with my mates. We do many different things together like going to the cinema or playing outdoor games.



Arda

I enjoy playing online games. I prefer being alone and I feel ashamed when I talk to new people.



Mert

I'm into playing the guitar. I play it in a local band in our town. We want to play at big festivals in the future.

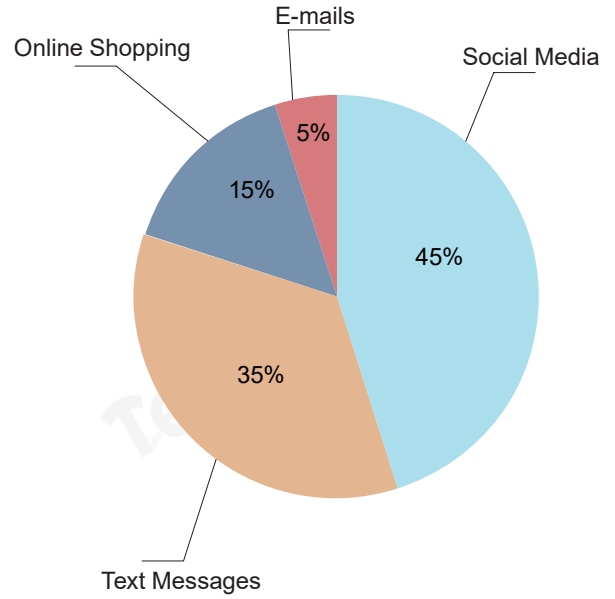


Selma

Who is shy according to the speech bubbles?

- A) Berna B) Arda C) Mert D) Selma

5. The teacher conducts a questionnaire about teenagers' internet habits and here are the results.



Which one is correct according to the results?

- A) Teenagers prefer sending messages the most.
 B) Using social media is the least popular.
 C) More than half of the teenagers do online shopping.
 D) Teenagers don't prefer e-mails to text messages.

8. SINIF SÖZEL BÖLÜM CEVAP ANAHTARI

Soru No	Türkçe	T.C. İnkılap Tarihi ve Atatürkçülük	Din Kültürü ve Ahlak Bilgisi	İngilizce
1	B	C	B	D
2	D	D	A	B
3	A	B	D	A
4	C	D	D	C
5	A	A	C	D
6	D			
7	B			
8	C			
9	C			
10	A			

Testmark